

MUNICÍPIO DE JOINVILLE - SC**0066 - FISIOTERAPEUTA****Turno: TARDE**

Tipo de Prova
4

Sr. Candidato, para ter a sua prova corrigida é obrigatório a marcação do tipo de prova no cartão de respostas. Caso não marque o tipo de prova, o cartão de respostas não será lido, e estará automaticamente eliminado do Concurso Público.

TRANSCREVA, NO SEU CARTÃO DE RESPOSTAS, A FRASE ABAIXO PARA O EXAME GRAFOTÉCNICO:

“Tudo é considerado impossível, até acontecer.” Nelson Mandela

ATENÇÃO

Este caderno contém cinquenta questões de múltipla escolha, cada uma com cinco alternativas de resposta (A, B, C, D, E).

Verifique se este material está em ordem, caso contrário, notifique imediatamente o fiscal.

O tempo de duração da prova inclui o preenchimento do Cartão de Respostas e da Folha de Respostas.

Duração da prova: 4h

LEIA AS INSTRUÇÕES ABAIXO

Por motivo de segurança:

- O candidato só poderá retirar-se definitivamente da sala após 1 (uma) hora do início efetivo da prova.
- O candidato poderá retirar-se levando o seu caderno de questões, somente faltando 1 (uma) hora para o término da prova.
- O candidato que optar por se retirar sem levar o seu caderno de questões não poderá copiar suas respostas por qualquer meio.
- Ao terminar a prova, o candidato deverá se retirar imediatamente do local, não sendo possível nem mesmo a utilização dos banheiros e/ou bebedouros.
- Ao terminar a prova é de sua responsabilidade entregar ao fiscal o cartão de respostas assinado. Não se esqueça dos seus pertences.
- Os três últimos candidatos deverão permanecer na sala até que o último candidato entregue o cartão de respostas, devendo assinar o Termo de Sala.
- O fiscal de sala não está autorizado a alterar quaisquer dessas instruções. Em caso de dúvida, solicite a presença do coordenador local.

BOA PROVA!

LÍNGUA PORTUGUESA

TEXTO PARA AS QUESTÕES DE 01 A 05.

A era do Homo Trecos

A Revolução Treconológica nos encheu de coisas, sem antes nos perguntar se seriam úteis

Renato de Faria | 10/03/2024

Um cérebro bem desenvolvido, capacidade de falar e produzir cultura, esses são os traços mais marcantes do *Homo sapiens*. Vencemos uma batalha natural e aqui estamos, com pensamento e reflexão. Para alguns, a libertação de um estado de natureza, no qual somos frágeis, presas fáceis. Para outros, um castigo divino, uma falha natural, pois bom mesmo seria viver por aí, pescando e caçando, sem eira nem beira, tal qual os animais.

Toda cultura se acha, invariavelmente, mais capacitada e evoluída do que a anterior. Isso é normal, faz parte da arrogância de viver o presente. Porém, toda comunidade histórica, por mais adaptada e avançada que pareça ser, terá sempre seu ponto cego, aquela característica marcante e ignorante, bem debaixo do nariz, que a envergonhará diante das demais.

Por mais que os gregos sejam fascinantes, pois nos deram a filosofia, a música, a matemática, a democracia e tantas outras coisas, eles eram escravocratas. Não percebiam, a tempo, que a escravidão é um mal ético e objetivo. Eles não enxergavam. Afinal, se é ponto cego, de fato, não era para ser visto mesmo. E aqueles que se levantaram em contrariedade, foram vistos como loucos, pessimistas, que intencionavam arruinar a ordem social. Depois, foram chamados de gênios.

Daqui a quatrocentos, quinhentos anos, encontrarão nossa fragilidade, nosso ponto cego, nossa poeira jogada para debaixo do tapete. Imagino um congresso de antropólogos, filósofos e cientistas discutindo nossa civilização, com seus avanços e retrocessos, descobertas e encobertas, luzes e sombras. Encontrarão nosso calcanhar de Aquiles, pois entraremos para a história como a era dos Homo Trecos.

A Revolução Treconológica nos encheu de coisas, sem antes nos perguntar se seriam úteis. É treco no braço, na cintura, no bolso, na orelha, na maleta e em qualquer lugar que dê para pendurar alguma coisa. Diferentemente daqueles que vieram antes de nós, nossas invenções não foram criadas por uma necessidade social. Pelo contrário, a demanda é, unicamente, pela ansiedade em produzir mais coisas, mais trecos.

Depois, começamos a nos perguntar para que eles servem. Quando descobrimos que nos fazem mal, causando dependências diversas, devido ao seu uso recreativo e excessivo, a própria indústria irá oferecer outros trecos farmacológicos para baixar a ansiedade, curar a tristeza e afastar a depressão. Calma, eles dão jeito para tudo. É treco que não acaba mais.

Nós, os Homo Trecos, não gostamos muito de pensar, essa coisa antiquada, analógica e sofrida. Basta inventar uns quatro ou cinco termos em língua inglesa (a língua oficial dos criados treconológicos) para suprir a falta de vocabulário que seus representantes desenvolveram. Por uma saudade do cordão umbilical, também criaram carregadores, bluetooth, cabos e redes, para estarmos sempre conectados ao Treco-Mãe.

Ótimo! Seremos a nova espécie! Trecos humanos que irão vagar por aí, correndo de um lugar a outro, fazendo quatro reuniões na mesma hora, com um tempo presente carente de sentido, em namoro eterno com a morte. Viveremos na monotonia daqueles que não sabem o que fazer com a vida, reduzida à obsolescência daqueles que só sabem se relacionar com o fetiche em consumir mais trecos.

FARIA, Renato de. A era do Homo Trecos. *Estado de Minas*, 10 de março de 2024. Disponível em: <https://www.em.com.br/colunistas/filosofia-explicadinha/2024/03/6816267-a-era-do-homo-trecos.html>. Acesso em: 30 mar. 2024. Adaptado.

Questão 1

Qual é a função das vírgulas no trecho “É treco no braço, na cintura, no bolso, na orelha, na maleta e em qualquer lugar que dê para pendurar alguma coisa.” (5º parágrafo)?

- (A) Enumerar termos de mesma função sintática.
- (B) Isolar um aposto explicativo.
- (C) Separar vocativos.
- (D) Isolar apostos enumerativos.
- (E) Separar orações coordenadas assindéticas.

Questão 2

Em qual dos trechos abaixo se pode identificar o uso da voz verbal passiva analítica?

- (A) “Vencemos uma batalha natural e aqui estamos, com pensamento e reflexão.” (1º parágrafo).
- (B) “Toda cultura se acha, invariavelmente, mais capacitada e evoluída do que a anterior.” (2º parágrafo).
- (C) “Afinal, se é ponto cego, de fato, não era para ser visto mesmo.” (3º parágrafo).
- (D) “A Revolução Treconológica nos encheu de coisas, sem antes nos perguntar se seriam úteis.” (5º parágrafo).
- (E) “Nós, os Homo Trecos, não gostamos muito de pensar, essa coisa antiquada, analógica e sofrida.” (7º parágrafo).

Questão 3

Qual dos trechos grifados abaixo representa uma oração subordinada substantiva?

- (A) “Para alguns, a libertação de um estado de natureza, **no qual somos frágeis, presas fáceis.**” (1º parágrafo).
- (B) “Não percebiam, a tempo, **que a escravidão é um mal ético e objetivo.**” (3º parágrafo).
- (C) “Diferentemente daqueles **que vieram antes de nós,** nossas invenções não foram criadas por uma necessidade social.” (5º parágrafo).
- (D) “Depois, começamos a nos perguntar **para que eles servem.**” (6º parágrafo).
- (E) “É treco **que não acaba mais.**” (6º parágrafo).

Questão 4

De acordo com o articulista, o ser humano produz trechos:

- (A) unicamente para escancarar os pontos cegos vexaminosos das culturas anteriores;
- (B) exclusivamente para suprir necessidades sociais que culturas de outras épocas deixaram;
- (C) apenas para que as futuras gerações de filósofos estudem o ser humano atual como uma espécie diferente;
- (D) somente para saciar a ansiedade de produzir coisas, ainda que sem utilidade aparente;
- (E) unicamente para utilizar a língua inglesa, considerada de prestígio, em situações cotidianas.

Questão 5

Qual das expressões abaixo, empregadas no texto, apresenta um sentido denotativo no contexto em que se encontra?

- (A) “estado de natureza”.
- (B) “sem eira nem beira”.
- (C) “debaixo do nariz”.
- (D) “ponto cego”.
- (E) “calcanhar de Aquiles”.

MATEMÁTICA**Questão 6**

Qual é o número de diagonais de um polígono regular cuja medida do ângulo externo é de 60° ?

- (A) 6
- (B) 12
- (C) 9
- (D) 18
- (E) 5

Questão 7

Se os números x , 12, 4 e 3, formam nessa ordem uma proporção, é verdadeiro que a soma dos algarismos de x , é:

- (A) 6
- (B) 7
- (C) 8
- (D) 9
- (E) 10

Questão 8

Um quadrado tem dois dos seus vértices localizados em $A(4, 4)$ e $C(-4, -4)$, que são os extremos de uma de suas diagonais. Qual é a soma da área e do perímetro desse quadrado, considerando que todas as dimensões estão na mesma unidade de medida?

- (A) 8
- (B) 64
- (C) 48
- (D) 32
- (E) 96

Questão 9

Qual é o dobro do valor de x , sabendo que a medida dos ângulos internos de um triângulo retângulo são $x + 10$ e $x - 15$?

- (A) 47,5
- (B) 23,75
- (C) 95
- (D) 190
- (E) 185

Questão 10

Qual é o próximo número da sequência lógica 4d, 9i, 8h, 15o,...?

- (A) 6f
- (B) 12l
- (C) 20t
- (D) 25y
- (E) 18r

NOÇÕES DE INFORMÁTICA

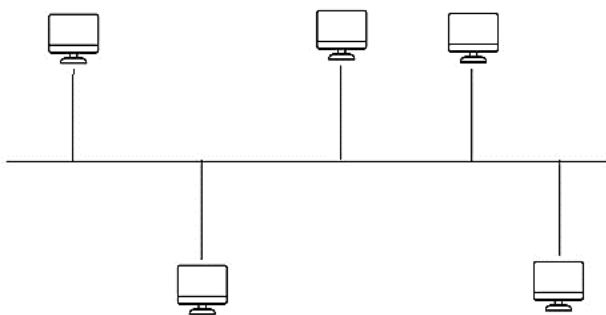
Questão 11

Assinale a alternativa que corresponda a guia em que se localiza o grupo Auditoria de Formulas, do MS-Excel 2016.

- (A) Fórmulas.
- (B) Arquivo.
- (C) Página Inicial.
- (D) Exibir.
- (E) Ajuda.

Questão 12

A imagem abaixo representa um dos tipos de topologia de rede. Qual?



- (A) Anel.
- (B) Estrela.
- (C) Barramento.
- (D) Hierárquico.
- (E) Malha.

Questão 13

Das alternativas apresentadas, qual corresponde a um exemplo de navegador de internet?

- (A) Adobe Photoshop.
- (B) Safari.
- (C) Outlook.
- (D) MSN Messenger.
- (E) Hotmail.

Questão 14

Analise as alternativas e assinale a que apresenta o atalho do MS-Word 2016 responsável por abrir a caixa “Localizar e Substituir”.

- (A) Ctrl + U.
- (B) Shift + Tab.
- (C) Alt + F3.
- (D) Tab.
- (E) F10.

Questão 15

Leia o trecho e responda.


“Interligam computadores presentes dentro de um mesmo espaço físico. Isso pode acontecer dentro de uma empresa, de uma escola ou dentro da sua própria casa, sendo possível a troca de informações e recursos entre os dispositivos participantes.”

É correto afirmar que o trecho diz respeito a:

- (A) MAN;
- (B) PAN;
- (C) SAN;
- (D) LAN;
- (E) WAN.

Questão 16

Analise a imagem e responda.



Em qual guia do MS-Word 2016 é possível localizar os grupos representados acima?

- (A) Página Inicial.
- (B) Exibir.
- (C) Design.
- (D) Inserir.
- (E) Layout.

Questão 17

Como é chamado o software instalado no computador sem a ciência do usuário, que se esconde no dispositivo e monitora atividades, roubando informações sensíveis como dados financeiros, informações de conta, logs?

- (A) Cavalo de Troia.
- (B) Spyware.
- (C) Adware.
- (D) Scareware.
- (E) Malware sem arquivo.

Questão 18

Analise e responda.

- I- Nobreak;
- II- Biometria.
- III- Certificado Digital;
- IV- Assinatura Digital;
- V- Criptografia.

Das opções apresentadas acima, qual(is) corresponde(m) a exemplo(s) de ferramenta(s) que garante(m) o Princípio da Disponibilidade da Segurança da Informação?

- (A) II e V, apenas.
- (B) III, apenas.
- (C) II e IV, apenas.
- (D) I, apenas.
- (E) V, apenas.

Questão 19

Analise a função do MS-Excel 2016 apresentada abaixo e responda.

“Função NÃO.”

É correto afirmar que a função é responsável por:

- (A) retornar VERDADEIRO se um dos argumentos for VERDADEIRO.
- (B) atribuir nomes aos resultados de cálculo.
- (C) inverter o valor lógico do argumento.
- (D) criar funções personalizadas e reutilizáveis e chamá-las por um nome amigável
- (E) especificar um teste lógico a ser executado.

Questão 20

Qual função é desempenhada pelo atalho “Ctrl + Shift + clique em um botão da barra de tarefas”, quando utilizado no sistema operacional Windows 11?

- (A) Exibir o menu da janela do aplicativo.
- (B) Alternar as janelas do grupo.
- (C) Adicionar uma área de trabalho virtual.
- (D) Abrir um aplicativo como um administrador.
- (E) Selecionar a caixa de pesquisa.

POLÍTICAS E LEGISLAÇÃO PÚBLICAS

Questão 21

Segundo o Art. 49 da Constituição Federal de 1988, é da competência exclusiva do Congresso Nacional:

- (A) vetar, em terras indígenas, a exploração e o aproveitamento de recursos hídricos e a pesquisa e lavra de riquezas minerais;
- (B) julgar semestralmente as contas prestadas pelo Presidente da República e apreciar os relatórios sobre a execução dos planos de governo;
- (C) aprovar, previamente, a alienação ou concessão de terras públicas com área inferior a dois mil e quinhentos hectares;
- (D) autorizar o Presidente e o Vice-Presidente da República a se ausentarem do País, quando a ausência exceder a quinze dias;
- (E) escolher um terço dos membros do Tribunal de Contas da União.

Questão 22

“Remanejamento é a mudança temporária, não superior a _____ dias, ou definitiva de função ou local de trabalho, que visa minimizar a repercussão das condições ambientais desfavoráveis à saúde do servidor no exercício do cargo.”

Segundo o Art. 25 da Lei Complementar nº 266 de 2008, a lacuna acima é corretamente preenchida por:

- (A) 30;
- (B) 60;
- (C) 90;
- (D) 120;
- (E) 180.

Questão 23

Conforme prevê a Lei nº 12.527 de 2011, o acesso à informação compreende, entre outros, os direitos de obter:

- I. informação primária, íntegra, autêntica e desatualizada;
- II. informação sobre atividades exercidas pelos órgãos e entidades, inclusive as relativas à sua política, organização e serviços;
- III. informação produzida ou custodiada por pessoa física ou entidade privada decorrente de qualquer vínculo com seus órgãos ou entidades, mesmo que esse vínculo já tenha cessado;
- IV. orientação sobre os procedimentos para a consecução de acesso, bem como sobre o local onde poderá ser encontrada ou obtida a informação almejada.

Estão corretas as afirmativas:

- (A) I e IV, apenas;
- (B) II, III e IV, apenas;
- (C) III, apenas;
- (D) IV, apenas;
- (E) II e IV, apenas.

Questão 24

De acordo com a Lei nº 12.527 de 2011, quando não for autorizado acesso integral à informação por ser ela parcialmente sigilosa, é assegurado o acesso à parte não sigilosa por meio de _____, extrato ou cópia com _____ da parte sob sigilo.

As lacunas acima são, correta e respectivamente, preenchidas por:

- (A) relatório; ocultação;
- (B) ofício; divulgação;
- (C) certidão; ocultação;
- (D) plano; divulgação;
- (E) projeto; ocultação.

Questão 25

De acordo com o Art. 5 da Constituição Federal de 1988, é correto afirmar que:

- (A) são violáveis a intimidade, a vida privada, a honra e a imagem das pessoas;
- (B) a criação de associações e, na forma da lei, a de cooperativas independem de autorização, sendo vedada a interferência estatal em seu funcionamento;
- (C) é plena a liberdade de associação para fins lícitos, permitida a de caráter paramilitar;
- (D) a pequena propriedade rural, assim definida em lei, desde que trabalhada pela família, será objeto de penhora para pagamento de débitos decorrentes de sua atividade produtiva, dispondo a lei sobre os meios de financiar o seu desenvolvimento;
- (E) é livre a manifestação do pensamento, sendo permitido o anonimato.

Questão 26

Conforme prevê a Constituição Federal de 1988, cada Estado e o Distrito Federal elegerão três Senadores, com mandato de:

- (A) dois anos;
- (B) quatro anos;
- (C) cinco anos;
- (D) seis anos;
- (E) oito anos.

Questão 27

Nos termos da Constituição Federal de 1988, o alistamento eleitoral e o voto são facultativos para:

- I. os analfabetos.
- II. os maiores de sessenta anos.
- III. os maiores de dezesseis e menores de dezoito anos.

Estão corretos os itens:

- (A) I, apenas;
- (B) I e III, apenas;
- (C) II, apenas;
- (D) III, apenas;
- (E) I e II, apenas.

Questão 28

Com base no Art. 37 da Constituição Federal de 1988, assinale a alternativa que contém um princípio da Administração Pública.

- (A) Dinamicidade;
- (B) Organização;
- (C) Acessibilidade;
- (D) Publicidade;
- (E) Eficácia.

Questão 29

O Art. 18 da Lei Complementar nº 266 de 2008, estabelece que o efetivo cumprimento das atribuições inerentes ao cargo ou função de confiança é:

- (A) exercício;
- (B) posse;
- (C) circulação;
- (D) desempenho;
- (E) exoneração.

Questão 30

Com base na Lei Complementar nº 266 de 2008, relacione os termos numerados de 1 a 4 com suas definições.

- (1) Readaptação
- (2) Reintegração
- (3) Recondução
- (4) Remoção

() É a reinvestidura do servidor estável no cargo anteriormente ocupado ou no resultante de sua transformação, quando invalidada sua demissão por decisão judicial ou administrativa.

() Consiste na mudança de cargo decorrente da inaptdão definitiva do servidor para o cargo originário, visando o aproveitamento de sua capacidade laborativa residual.

() É o retorno do servidor estável ao cargo anteriormente ocupado e decorrerá de: inabilitação em estágio probatório relativo a outro cargo; reintegração do anterior ocupante.

() É o deslocamento do servidor do quadro permanente, a pedido ou de ofício, no âmbito do mesmo quadro.

A sequência correta, de cima para baixo, é:

- (A) 2 - 1 - 3 - 4
- (B) 2 - 3 - 4 - 1
- (C) 3 - 1 - 2 - 4
- (D) 3 - 2 - 4 - 1
- (E) 4 - 2 - 1 - 3

CONHECIMENTOS ESPECÍFICOS

Questão 31

A cinesioterapia pode ser dividida em quatro tipos: a motora, a postura, a laboral e a respiratória. Sobre esse tema, assinale a alternativa correta.

- (A) Movimentos ativos são movimentos realizados pela força externa e auxílio total do fisioterapeuta.
- (B) A cinesioterapia é contraindicada em pacientes imunossuprimidos.
- (C) A cinesioterapia aumenta a tensão muscular, provocando diminuição da resistência vascular periférica a fim de aliviar a dor.
- (D) Movimentos passivos são movimentos realizados com a força do próprio paciente.
- (E) A cinesioterapia alivia dores musculares, melhora a amplitude de movimentos do corpo, melhora a postura e corrige alterações da coluna vertebral, entre outros benefícios.

Questão 32

Para a abordagem de queixas musculares, muitas vezes é importante analisar quais músculos estão comprometidos e qual é a inervação de cada um. Desse modo, assinale a alternativa que apresenta corretamente o músculo e sua inervação motora.

- (A) Masseter - nervo mandibular do trigêmeo.
- (B) Temporal - nervo auriculotemporal.
- (C) Trapézio - nervo dorsal da escápula.
- (D) Rombóide menor - nervo toracodorsal.
- (E) Fibular terceiro - nervo fibular superficial.

Questão 33

Tendo em vista a anatomia dos membros superior e inferior, assinale a alternativa correta.

- (A) A veia safena magna tem trajeto ascendente a partir do dorso do pé, passando posteriormente ao maléolo lateral, até chegar no hiato safeno e se unir à veia femoral.
- (B) A inervação cutânea da porção medial da perna é feita através do ramo terminal do nervo femoral, também chamado de nervo safeno magno.
- (C) O primeiro ramo da artéria femoral é a femoral profunda, a qual é responsável pela irrigação dos músculos adutores. Trombos nessa artéria podem ser causa importante de claudicação em membro inferior.
- (D) A articulação glenoumeral é reforçada por músculos do manguito rotador (subescapular, supraespinhal, infraespinhal e redondo maior), ligamentos e tendões que mantêm a cabeça do úmero presa na cavidade glenoidal.
- (E) A articulação radioulnar proximal é uma articulação sinovial do tipo trocóide (ou em pivô). Ela permite o movimento do rádio em torno da ulna, promovendo o movimento de pronação ou supinação.

Questão 34

A medida da pressão inspiratória máxima (PIM) e da pressão expiratória máxima (PEM) pode ajudar na avaliação da fraqueza dos músculos respiratórios. Sobre esse tema, assinale a alternativa correta.

- (A) Para avaliar a função respiratória, é importante avaliar o volume corrente de ar por minuto, que em um indivíduo hígido é cerca de 5L de ar.
- (B) A capacidade pulmonar diminuída reflete fraqueza dos intercostais, que são os principais músculos ativos na inspiração.
- (C) Uma lesão cervical ao nível de C4 pode comprometer a inspiração pelo acometimento da raiz do nervo frênico.
- (D) Uma lesão cervical ao nível de T1 pode comprometer a respiração pelo acometimento da raiz do nervo frênico.
- (E) Doenças neurodegenerativas que comprometem os músculos acessórios da respiração diminuem progressivamente o volume residual dos pulmões.

Questão 35

Tendo em vista o tratamento fisioterápico nas fraturas dos membros inferiores, assinale a alternativa correta.

- (A) As fraturas proximais do fêmur são frequentes na população idosa e sempre são decorrentes de queda de altura.
- (B) A fratura proximal de fêmur tem alta mortalidade e pode causar incapacidade funcional, levando a custos médico-hospitalares elevados e a problemas sociofamiliares.
- (C) As fraturas ao redor do joelho são ocasionadas por traumas de alta energia na população geriátrica e baixa energia na população jovem.
- (D) As fraturas da tíbia ocorrem, majoritariamente, devido a traumas de baixa energia, como acidentes de trânsito, quedas de altura e esportes de contato.
- (E) Como a tíbia é um osso com muita cobertura muscular, a maioria das suas fraturas – fechadas e expostas – não está associada à lesão da pele ou do tecido subcutâneo.

Questão 36

É um direito do fisioterapeuta:

- (A) prescrever tratamento fisioterapêutico sem realização de consulta;
- (B) abandonar o cliente/paciente/usuário em meio a tratamento, sem a garantia de continuidade de assistência;
- (C) revelar, sem justa causa, fato sigiloso de que tenha conhecimento em razão do exercício de sua profissão;
- (D) receber a justa remuneração pelos seus serviços profissionais;
- (E) afixar valor de honorários fora do local da assistência fisioterapêutica, ou promover sua divulgação de forma incompatível com a dignidade da profissão.

Questão 37

A síndrome do carpo consiste na compressão de qual nervo?

- (A) Nervo ulnar.
- (B) Nervo mediano.
- (C) Nervo radial.
- (D) Nervo musculocutâneo.
- (E) Nervo interósseo anterior.

Questão 38

A _____ é uma síndrome por compressão dos nervos do plexo braquial e/ou dos vasos subclávios, resultando em uma variedade de sintomas, incluindo dor, formigamento, fraqueza e problemas de circulação sanguínea nos membros superiores. A compressão pode ocorrer devido a uma série de razões, como trauma, anomalias anatômicas, postura inadequada ou desenvolvimento anormal dos músculos ou estruturas ósseas na região do pescoço e ombro. O tratamento geralmente envolve uma combinação de terapia física, medicamentos para aliviar a dor e, em alguns casos, cirurgia para aliviar a compressão nos nervos e vasos sanguíneos.

Assinale a alternativa que melhor completa a lacuna do enunciado.

- (A) Hérnia de disco cervical.
- (B) Síndrome de Erb-Duchenne.
- (C) Síndrome de Horner.
- (D) Síndrome do desfiladeiro torácico.
- (E) Síndrome da costela cervical.

Questão 39

As órteses e próteses, em comum, ajudam os pacientes a recuperarem a autonomia e mobilidade, mas apresentam diferenças quanto ao funcionamento. Sobre esse tema, analise os itens a seguir:

I. As órteses são peças que substituem integralmente alguma parte do corpo que foi amputada ou não funciona mais em perfeito estado.

II. A prótese endoesquelética pode ser feita em alumínio, aço, titânio ou fibra de carbono. Conhecida como modular, ela é superior esteticamente e funcionalmente aos modelos convencionais, principalmente em articulações de joelho e anca e em amputações transfemorais.

III. Em crianças e adolescentes, a colocação e permanência das órteses e próteses requer um acompanhamento muito maior do que em adultos, já que mudam de medidas com muita frequência e as peças precisam estar completamente ajustadas ao corpo, para funcionarem como esperado.

Está(ão) correto(s) o(s) item(ns):

- (A) I, apenas;
- (B) I e II, apenas;
- (C) I e III, apenas;
- (D) II e III, apenas;
- (E) I, II e III.

Questão 40

Sobre a eletroterapia, é correto afirmar que:

- (A) é uma técnica com baixa eficácia e alto custo, por isso está em desuso;
- (B) é contraindicada em pacientes com dor crônica;
- (C) as correntes elétricas geradas são, em geral, de alta intensidade (10^3 amperes);
- (D) um dos benefícios dessa técnica é a redução da tensão muscular, melhorando a circulação sanguínea e promovendo o aumento das dores;
- (E) determinadas correntes são capazes de realizarem uma contração muscular, impulsionando os vasos linfáticos e estimulando a reabsorção da linfa em excesso.

Questão 41

De acordo com o Código de Ética e Deontologia da Fisioterapia, é um dever do fisioterapeuta:

- (A) informar ao cliente/paciente/usuário quanto à consulta fisioterapêutica, diagnóstico e prognóstico fisioterapêuticos, objetivos do tratamento, condutas e procedimentos a serem adotados, esclarecendo-o ou o seu responsável legal;
- (B) induzir a convicções políticas, filosóficas, morais, ideológicas e religiosas quando no exercício de suas funções profissionais;
- (C) permitir que trabalho que executou seja assinado por outro profissional, bem como assinar trabalho que não executou, ou do qual não tenha participado;
- (D) utilizar de sua posição hierárquica para induzir ou persuadir seus colegas subordinados a executar condutas ou atos que firam princípios éticos ou sua autonomia profissional;
- (E) permitir, mesmo a título gratuito, que seu nome conste do quadro de pessoal de hospital, casa de saúde, ambulatório, consultório, clínica, policlínica, escola, curso, entidade desportiva ou qualquer outra instituição, pública ou privada, ou estabelecimento congênere, similar ou análogo, sem nele exercer as atividades de fisioterapeuta.

Questão 42

Com relação à análise da marcha, analise os itens a seguir.

- I. Um ciclo de marcha corresponde ao período entre o toque de calcanhar de um pé até o próximo toque de calcanhar do mesmo pé. Este também é o conceito de passada. Já um passo é o período entre o toque de calcâneo de um pé e o próximo toque de calcâneo do outro pé. Assim, uma passada contém dois passos.
- II. A marcha espástica é a marcha em que os membros inferiores estão rígidos, havendo grande dificuldade em fletir os joelhos.
- III. A marcha labiríntica caracteriza-se por ser secundária a um acidente vascular cerebral com paralisia de um dos membros inferiores, assim, o doente arrasta a perna do lado afetado.

Está(ão) correto(s) o(s) item(ns):

- (A) I, apenas;
- (B) I e II, apenas;
- (C) I e III, apenas;
- (D) II e III, apenas;
- (E) I, II e III.

Questão 43

A _____ é uma técnica terapêutica que utiliza as propriedades da água para a reabilitação física, por meio de medidas, profundidades, temperaturas e pressões diferentes.

Assinale a alternativa que completa corretamente a lacuna do enunciado.

- (A) hidroterapia;
- (B) massoterapia;
- (C) crioterapia;
- (D) eletroterapia;
- (E) termoterapia.

Questão 44

A síndrome do impacto femoroacetabular é uma condição clínica relacionada com o movimento do quadril, a qual tem uma tríade de sintomas, sinais clínicos e achados de imagens. Sobre essa patologia e o tratamento fisioterapêutico nas lesões de quadril, assinale a alternativa correta.

- (A) Alterações morfológicas no fêmur e/ou no acetábulo não estão relacionadas com a síndrome do impacto femoroacetabular.
- (B) Um dos princípios importantes nos estágios iniciais da reabilitação do paciente com síndrome do impacto femoroacetabular é o retreinamento dos músculos rotadores laterais profundos do quadril (obturador externo, piriforme, isquiococígeo e gêmeos superior inferior).
- (C) Na morfologia tipo CAM há uma cobertura acetabular excessiva da cabeça femoral esférica. Nesse cenário, a doença é assintomática na maioria dos casos.
- (D) O fisioterapeuta deve incentivar o paciente a realizar atividades que provoquem dor, tais como cruzar as pernas, esportes que exigem demasiadamente a articulação do quadril a fim de promover um aumento da amplitude de movimento da articulação.
- (E) O fisioterapeuta deve educar o paciente em relação às estratégias de proteção articular e às atividades que provocam os sintomas, que devem ser evitadas. Por exemplo, o fisioterapeuta pode orientar o paciente a evitar: permanecer sentado por tempo prolongado; realizar agachamentos profundos e cruzar as pernas.

Questão 45

A _____ é todo e qualquer uso de gelo ou aplicações de frio com fins terapêuticos, que resulta na diminuição do calor local e da temperatura corporal.

Assinale a alternativa que completa corretamente a lacuna do enunciado é:

- (A) hidroterapia;
- (B) massoterapia;
- (C) crioterapia;
- (D) eletroterapia;
- (E) termoterapia.

Questão 46

O escafoide é o osso do carpo mais comumente lesado. Fraturas do escafoide usualmente resultam da hiperextensão do punho, geralmente durante uma queda sobre a mão estendida. Sabe-se que o escafoide é um osso da fileira proximal do carpo. Quais são os demais ossos da fileira proximal do carpo?

- (A) Semilunar, pisiforme e trapézio.
- (B) Capitato, semilunar e piramidal.
- (C) Capitato, semilunar e pisiforme.
- (D) Trapézio, trapezóide e hamato.
- (E) Semilunar, piramidal e pisiforme.

Questão 47

De acordo com o Código de Ética, é vedado ao fisioterapeuta:

- (A) oferecer ou divulgar seus serviços profissionais de forma compatível com a dignidade da profissão e a leal concorrência;
- (B) negar a assistência ao ser humano ou à coletividade em caso de indubitável urgência;
- (C) ser pontual no cumprimento das obrigações pecuniárias inerentes ao exercício da Fisioterapia;
- (D) ser solidário aos movimentos em defesa da dignidade profissional, seja por remuneração condigna, seja por condições de trabalho compatíveis com o exercício ético profissional e seu aprimoramento;
- (E) deixar de cobrar honorários por assistência prestada à pessoa reconhecidamente hipossuficiente de recursos econômicos.

Questão 48

É fundamental que o fisioterapeuta tenha conhecimento sobre os principais grupos musculares do corpo. Desse modo, participam da flexão do antebraço os músculos:

- (A) braquial, coracobraquial e bíceps braquial;
- (B) braquial, bíceps braquial e braquiorradial;
- (C) braquial, bíceps braquial e flexor ulnar do carpo;
- (D) pronador, bíceps braquial e supinador;
- (E) pronador redondo, braquial e bíceps braquial.

Questão 49

A _____ é a compressão ou a tração do nervo ulnar no cotovelo. Os sintomas são dor e parestesia no cotovelo no trajeto do nervo ulnar. O diagnóstico é sugerido pelos sinais e sintomas e, às vezes, por exames de condução neural. Os tratamentos incluem imobilização e, às vezes, descompressão cirúrgica.

Assinale a alternativa que completa corretamente a lacuna do enunciado.

- (A) Síndrome do túnel radial.
- (B) Síndrome de Quervain.
- (C) Deformidade em batoeira.
- (D) Síndrome do túnel cubital.
- (E) Doença de Kienbock.

Questão 50

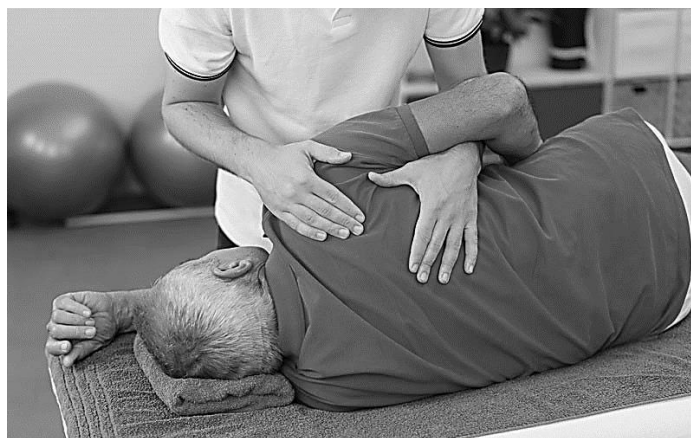
Para a avaliação da função muscular dos adutores da coxa, é preciso compreender a anatomia desses músculos. Fazem parte dos adutores da coxa:

- (A) pectíneo, grácil, adutor longo, adutor curto, adutor magno;
- (B) pectíneo, grácil, vasto medial, adutor longo e adutor curto, adutor magno;
- (C) adutor longo, adutor curto, adutor magno e iliopsoas;
- (D) adutor longo, adutor curto, adutor magno e sartório;
- (E) adutor longo, adutor curto, adutor magno e vasto medial.

PROVA DISCURSIVA

Elabore um texto dissertativo, de 20 a 30 linhas, com base nos seus conhecimentos, acerca do tema abaixo:

Tema: A importância dos procedimentos fisioterápicos.



<https://drmarcon.com.br/website/index.php/blog/o-papel-da-fisioterapia-da-coluna-no-processo-de-reabilitacao>

“Quando falamos na importância da Fisioterapia, as pessoas geralmente associam os benefícios ao que é visível no tratamento de lesões e doenças. No entanto, os tratamentos fisioterápicos podem ser realizados por qualquer pessoa, resultando em mais qualidade de vida.”

Fonte: <https://www.florence.edu.br/blog/importancia-da-fisioterapia>

FOLHA DE RASCUNHO

1

2

3

4

5

6

7

8

9

10

11

12

13

14

15

16

17

18

19

20

21

22

23

24

25

26

27

28

29

30